

202

F

نام :

نام خانوادگی :

محل امضاء :



اگر دانشگاه اصلاح شود مملکت اصلاح می شود.  
امام خمینی (ره)

صبح جمعه

۹۲/۱۲/۱۶

دفترچه شماره (۱)

جمهوری اسلامی ایران  
وزارت علوم، تحقیقات و فناوری  
سازمان سنجش آموزش کشور

**آزمون ورودی  
دوره های دکتری (نیمه متمرکز) داخل  
سال ۱۳۹۳**

**علوم و فناوری نانو (۱)  
نانومواد (کد ۲۳۶۳)**

مدت پاسخگویی: ۱۵۰ دقیقه

تعداد سؤال: ۴۵

عنوان مواد امتحانی، تعداد و شماره سؤالات

ردیف	مواد امتحانی	تعداد سؤال	از شماره	تا شماره
۱	مجموعه دروس تخصصی (ریاضی و فیزیک (ریاضی عمومی ۱ و ۲ - ریاضی فیزیک ۱ و ۲ - فیزیک پایه ۱ و ۲) - مبانی نانو تکنولوژی، نانومواد)	۴۵	۱	۴۵

اسفندماه سال ۱۳۹۲

این آزمون نمره منفی دارد.

استفاده از ماشین حساب مجاز نمی باشد.

حق چاپ، تکثیر و انتشار سؤالات به هر روش (الکترونیکی و ...) پس از برگزاری آزمون، برای تمامی اشخاص حقیقی و حقوقی آنها با مجوز این سازمان مجاز می باشد و با متخلفین برابر مقررات رفتار می شود.

۱- سریهای  $\sum_{n=1}^{\infty} \frac{2^n}{n!}$ ،  $\sum_{n=1}^{\infty} (\sqrt[n]{n}-1)^n$  به ترتیب ..... و ..... می‌باشند.

- (۱) همگرا- همگرا  
(۲) همگرا- واگرا  
(۳) واگرا- همگرا  
(۴) واگرا- واگرا

۲- مقدار  $\lim_{x \rightarrow +\infty} \frac{\int_x^{5x} (1+\frac{1}{t})^t dt}{x}$  برابر است با:

- (۱) ۰  
(۲) e  
(۳) ۴e  
(۴) ۵e

۳- فرض کنید C منحنی  $x^4 + y^4 = 1$  و  $y \geq 0$  باشد که در جهت مثلثاتی در نظر گرفته شده است. مقدار  $\int_C (e^x \cos y) dx - (e^x \sin y) dy$  کدام است؟

- (۱) ۰  
(۲)  $\frac{1}{e} - e$   
(۳)  $2\pi$   
(۴)  $e + \frac{1}{e}$

۴- مقدار حد زیر کدام است؟

$$\lim_{x \rightarrow e} \frac{1}{(\ln x)^{1-\ln x}}$$

- (۱) -۱  
(۲)  $\frac{1}{e}$   
(۳) ۱  
(۴) e

۵- مقدار سری  $\sum_{n=0}^{\infty} \frac{(n+3)}{2^n}$  چقدر است؟

- (۱) ۶  
(۲) ۷  
(۳) ۸  
(۴) ۹

۶- کدام یک از گزینه‌های زیر معادله صفحه مماسی بر رویه  $z = xy$  است که بر خط

$$\frac{x+2}{2} = \frac{y+2}{2} = \frac{z-1}{-1}$$
 عمود می‌باشد؟

- (۱)  $-2x - 2y - z = 4$   
(۲)  $-2x + 2y + z = 4$   
(۳)  $2x - 2y + z = 4$   
(۴)  $2x + 2y - z = 4$

۷- حجم ناحیه محصور به منحنی  $z = 2 - x^2 - y^2$ ،  $z = 0$  و  $x = y^2$ ،  $y = x^2$  برابر است با:

- (۱)  $\frac{49}{105}$   
(۲)  $\frac{51}{105}$   
(۳)  $\frac{52}{105}$   
(۴)  $\frac{53}{105}$

۸- شار میدان برداری  $\vec{F} = z\hat{i} + x\hat{j} - 3y^2\hat{k}$  از سطح بسته یک استوانه به شعاع ۲ و ارتفاع ۲ کدام است؟ مبدا مختصات بر مرکز قاعده پایینی استوانه و محور z ها بر محور استوانه منطبق است.

$$(1) -24\pi \quad (2) -12\pi$$

$$(3) 16 - 24\pi \quad (4) 8 - 12\pi$$

۹- اگر  $\vec{a}$  و  $\vec{b}$  بردارهای ثابتی باشند کدام رابطه نادرست است؟

$$(1) \vec{\nabla} \times (\vec{a} \times \vec{r}) = 2\vec{a} \quad (2) \vec{\nabla} \cdot ((\vec{a} \cdot \vec{r})\vec{b}) = \vec{a} \cdot \vec{b}$$

$$(3) \vec{\nabla} \times ((\vec{a} \cdot \vec{r})\vec{b}) = \vec{b} \times \vec{a} \quad (4) \vec{\nabla} \cdot ((\vec{a} \cdot \vec{r})\vec{r}) = 2\vec{a} \cdot \vec{r}$$

۱۰-  $\mathbf{A}$  و  $\mathbf{B}$  دو ماتریس دلخواه  $n \times n$  هستند. کدام رابطه نادرست است؟

$$(1) \text{tr}(\mathbf{A}\mathbf{B}\mathbf{A}^{-1}) = \text{tr} \mathbf{B}$$

$$(2) \text{tr}(\mathbf{A} + \mathbf{B}) = \text{tr} \mathbf{A} + \text{tr} \mathbf{B}$$

$$(3) \det(\mathbf{A} + \mathbf{B}) = \det \mathbf{A} + \det \mathbf{B}$$

$$(4) \det(\mathbf{A}\mathbf{B})^\dagger = (\det \mathbf{A})^* (\det \mathbf{B})^*$$

۱۱- اگر ماتریس  $\mathbf{A}$  در رابطه  $\mathbf{A}^\dagger = \mathbf{A}$  صدق می کند. ویژه مقدارهای  $\mathbf{A}$  ...

- (۱) فقط صفر و یک هستند.
- (۲) فقط صفر، یک و منهای یک هستند.
- (۳) اعداد مختلطی با قدر مطلق یک هستند.
- (۴) هر عدد مثبت میان صفر تا یک می توانند باشند.

۱۲- کدام یک از بسط سری توانی تابع های داده شده نادرست است؟

$$(1) \frac{x}{x-1} = \sum_{n=0}^{\infty} x^{-n} \quad (2) \ln(1+x) = \sum_{n=1}^{\infty} \frac{x^n}{n}$$

$$(3) \sin x = \sum_{n=0}^{\infty} (-1)^n \frac{x^{2n+1}}{(2n+1)!} \quad (4) (1+x)^m = \sum_{n=0}^{\infty} \binom{m}{n} x^n$$

۱۳- اگر  $u(x, y)$  و  $v(x, y)$  به ترتیب قسمت های حقیقی و موهومی یک تابع

تحلیلی  $w(z)$  کدام رابطه ها درست است؟  $z = x + iy$

$$(1) \vec{\nabla} u(x, y) = \vec{\nabla} v(x, y) \neq 0 \quad \vec{\nabla} u(x, y) = -\vec{\nabla} v(x, y)$$

$$(2) \vec{\nabla} u(x, y) = \vec{\nabla} v(x, y) = 0 \quad \vec{\nabla} u(x, y) = \vec{\nabla} v(x, y) = 0$$

۱۴- حاصل انتگرال  $\int_0^{2\pi} \frac{d\theta}{a + b \cos \theta}$  برای  $a > |b|$  کدام است؟

$$(1) -2\pi\sqrt{a^2 - b^2} \quad (2) \frac{-2\pi}{\sqrt{a^2 - b^2}}$$

$$(3) \frac{\pi}{a^2 - b^2} \quad (4) \frac{2\pi}{\sqrt{a^2 - b^2}}$$

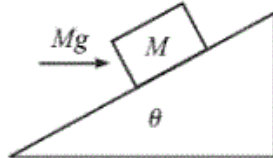
۱۵- تابع  $N(t)$  در معادله دیفرانسیل  $\frac{dN}{dt} = -kN^2$  صدق می‌کند که در آن  $k$

یک ضریب ثابت است، تابع  $N(t)$  کدام است؟  $\tau_0 = 1/kN_0$

$$N_0 \left(1 + \frac{t}{\tau_0}\right)^{-1} \quad (۲) \qquad N_0 \left(1 - \frac{t}{\tau_0}\right)^{-1} \quad (۱)$$

$$N_0 \left(1 + \frac{t^2}{2\tau_0}\right) \quad (۴) \qquad N_0 \left(1 + \frac{t}{\tau_0}\right) \quad (۳)$$

۱۶- قطعه‌ای به جرم  $M$  مطابق شکل زیر روی یک سطح شیبدار ثابت با زاویه شیب  $\theta$  در حال سکون قرار دارد. نیروی افقی به اندازه  $Mg$  به قطعه وارد می‌شود.  $\mu_s$  ضریب اصطکاک ایستایی میان قطعه و سطح شیبدار چقدر باشد تا قطعه همچنان روی سطح شیبدار ساکن بماند؟



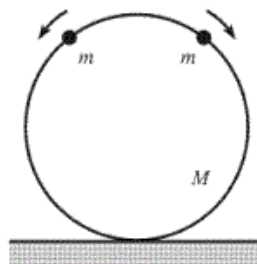
(۱) اگر  $0 < \theta < \frac{\pi}{4}$  باشد  $\mu_s \geq \frac{1 - \cos \theta}{\sin \theta + \cos \theta}$

(۲) اگر  $0 < \theta < \frac{\pi}{4}$  باشد  $\mu_s \geq \frac{\sin \theta + \cos \theta}{\cos \theta - \sin \theta}$

(۳) اگر  $\frac{\pi}{4} < \theta < \frac{\pi}{2}$  باشد  $\mu_s \geq \frac{\sin \theta - \cos \theta}{\sin \theta + \cos \theta}$

(۴) اگر  $\frac{\pi}{4} < \theta < \frac{\pi}{2}$  باشد  $\mu_s \geq \frac{\sin \theta + \cos \theta}{1 - \cos \theta}$

۱۷- مطابق شکل زیر یک حلقه بدون اصطکاک به شعاع  $R$  در صفحه قائمی ثابتی در حال سکون قرار دارد. دو مهره هر یک به جرم  $m$  ابتدا در بالاترین نقطه حلقه در حال سکون هستند. با یک ضربه ناچیز یکی از مهره‌ها به سمت راست و دیگری به سمت چپ روی حلقه شروع به لغزش می‌کنند. بزرگترین مقدار  $m/M$  که حلقه از زمین به سمت بالا جدا نمی‌شود چیست؟



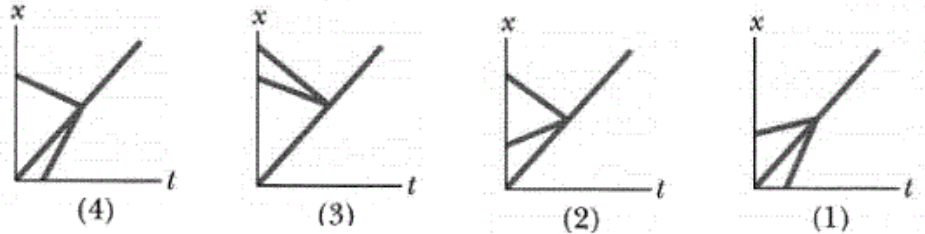
(۱)  $\frac{1}{16}$

(۲)  $\frac{1}{8}$

(۳)  $\frac{1}{4}$

(۴)  $\frac{1}{2}$

۱۸- در شکل‌های زیر چهار نمودار مکان بر حسب زمان برای دو ذره و مرکز جرم آنها نشان داده شده است. این دو ذره یک سیستم بسته و ایزوله تشکیل می‌دهند و یک برخورد ناکشسان کامل یک بعدی میان آن دو رخ می‌دهد. کدام یک از این نمودارها مربوط به یک حالت غیرممکن فیزیکی است؟




(۲) نمودار (۲)

(۱) نمودار (۱)

(۴) نمودار (۴)

(۳) نمودار (۳)

۱۹- در شکل زیر قطعه ۱ به جرم  $2 \text{ kg}$  با تندی  $10 \text{ m/s}$  به سمت راست و قطعه ۲ به جرم  $5 \text{ kg}$  با تندی  $3 \text{ m/s}$  به سمت راست روی سطح افقی بدون اصطکاک در حرکتند. فنری با ثابت فنر  $1120 \text{ N/m}$  به قطعه ۲ متصل است. وقتی که دو قطعه با هم برخورد می‌کنند بیشترین فشردگی فنر در حالتی است که تندی دو قطعه با هم یکسان شود. حداکثر فشردگی فنر چند سانتیمتر است؟



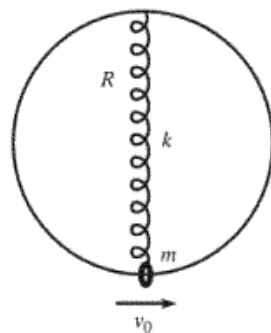
(۱)  $6,25$

(۲)  $15,6$

(۳)  $17,68$

(۴)  $25$

۲۰- مطابق شکل زیر یک حلقه به شعاع  $R$  در صفحه قائمی ثابتی در حال سکون قرار دارد. فنر بدون جرمی با ثابت فنر  $k$  و طول آزاد صفر به نقطه بالای حلقه بسته شده است. مهره کوچکی به جرم  $m$  در پایین حلقه به سر دیگر فنر بسته شده و مقید است که در امتداد حلقه حرکت کند. به مهره یک سرعت اولیه افقی  $v_0$  داده می‌شود. اگر اصطکاک میان مهره و حلقه قابل چشم‌پوشی باشد رابطه سرعت و مکان مهره بر روی حلقه کدام است؟  $\theta$  زاویه امتداد فنر با امتداد قائم در هر لحظه است.



$$(1) \left( v_0^2 - 4 \sin^2 \theta k R^2 / m \right)^{1/2}$$

$$(2) \left( v_0^2 - 4 \sin^2 \theta (g R + k R^2 / m) \right)^{1/2}$$

$$(3) \left( v_0^2 + 2 \sin^2 \theta (g R - k R^2 / m) \right)^{1/2}$$

$$(4) \left( v_0^2 + 4 \sin^2 \theta (g R - k R^2 / m) \right)^{1/2}$$

-۲۱

در استوانه‌ای به ارتفاع  $50\text{ cm}$  و شعاع  $25\text{ cm}$  بار الکتریکی با چگالی

$$\rho(x, y, z) = 100 e^{-z} (x^2 + y^2)^{-1/4} \mu\text{C} / \text{m}^3$$

توزیع شده است. بار کل داخل استوانه تقریباً چند میکروکولن است؟ مبدا مختصات بر مرکز قاعده پایینی استوانه و محور  $Z$  بر محور استوانه منطبق است.

$$(e^{-1/2} = 0.707)$$

(۲) ۲۱

(۱) ۳/۳

(۴) ۲۵۰

(۳) ۶۳

-۲۲

در شکل زیر شعاع‌های چهار کره رسانا یکسان و فاصله آن‌ها از هم زیاد است. بار اولیه کره‌های  $B$  و  $C$  به ترتیب برابر  $-32e$  و  $+48e$  و کره  $W$  در ابتدا بدون بار است. در مرحله اول کره  $W$  به کره  $A$  تماس داده شده و سپس از هم جدا می‌گردند. در ادامه در مرحله دوم کره  $W$  به کره  $B$  تماس داده شده و سپس از هم جدا می‌گردند. در نهایت کره  $W$  به کره  $C$  تماس داده شده و سپس از هم جدا می‌گردند. اگر بار نهایی کره  $W$  برابر  $+18e$  باشد، بار اولیه کره  $A$  کدام است؟  $e$  قدر مطلق بار الکترون است.

(۱)  $+4e$



(۲)  $+8e$

(۳)  $+10e$



(۴)  $+16e$

-۲۳

یک دو قطبی الکتریکی با گشتاور دو قطبی  $\vec{p} = (3\hat{i} + 4\hat{j})(1 \times 10^{-30} \text{ C} \cdot \text{m})$  در یک میدان الکتریکی یکنواخت  $\vec{E} = (4000 \text{ N/C})\hat{i}$  قرار دارد. یک عامل خارجی چه کاری بر حسب ژول باید انجام دهد تا دو قطبی را آن چنان بچرخاند که بردار گشتاور دو قطبی آن به شکل  $\vec{p} = (-4\hat{i} + 3\hat{j})(1 \times 10^{-30} \text{ C} \cdot \text{m})$  درآید؟

(۲)  $+2.8 \times 10^{-26}$

(۱)  $+4 \times 10^{-26}$

(۴)  $-4 \times 10^{-26}$

(۳)  $-2.8 \times 10^{-26}$

-۲۴

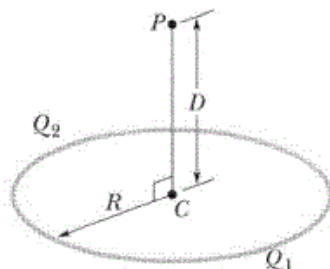
یک میله پلاستیکی به شکل یک دایره به شعاع  $R = 8\text{ cm}$  در آمده است. روی یک چهارم محیط این دایره بار الکتریکی  $Q_1 = +4\text{ pC}$  به طور یکنواخت توزیع شده و روی بقیه محیط این دایره بار  $Q_2 = -5Q_1$  به طور یکنواخت توزیع شده است. اگر پتانسیل الکتریکی در بی‌نهایت صفر باشد پتانسیل الکتریکی در نقطه  $P$  واقع بر روی محور تقارن دایره و به فاصله  $D = 6\text{ cm}$  از مرکز دایره چند ولت است؟

(۱)  $-1/44$

(۲)  $-1/8$

(۳)  $-9/05$

(۴)  $-11/31$



- ۲۵- یک سیم پیچ بسیار طویل دارای قطری به اندازه  $12\text{ cm}$  است. ابتدا جریان  $i$  از سیم پیچ عبور می کند و میدان مغناطیسی یکنواختی به اندازه  $30\text{ mT}$  در داخل آن ایجاد می شود. با کاهش جریان  $i$  میدان مغناطیسی با آهنگ  $8\text{ mT/s}$  کاهش می یابد. اندازه میدان الکتریکی القایی در نقطه ای به فاصله  $10\text{ cm}$  از محور استوانه چند  $\mu\text{V/m}$  است؟
- (۱) ۱۴۴ (۲) ۴۰۰  
(۳) ۵۷۶ (۴) ۸۰۰
- ۲۶- کدام خاصیت فیزیکی در مورد نانولوله های کربنی نادرست است؟  
(۱) نانولوله های با ساختار صندلی دسته دار خاصیت فلزی دارند.  
(۲) وجود نقص در نانولوله ها موجب جایگزیده شدن الکترون ها می شود.  
(۳) در دماهای پایین اثر مقاومت مغناطیسی منفی از خود نشان می دهند.  
(۴) در نانولوله های کایرال نیم رسانا با افزایش قطر لوله اندازه گاف کاهش می یابد.
- ۲۷- در روش تولید نانولوله های کربنی با استفاده از قوس الکتریکی، اتم های کربن از الکتروود ..... جدا می شوند و روی الکتروود ..... نانولوله تشکیل می دهند. برای تولید نانولوله های ..... باید کمی ..... در ناحیه مرکزی الکتروود ..... به کار می رود.
- (۱) منفی، مثبت، تک دیواره، کاتالیست غیرفلزی، مثبت  
(۲) مثبت، منفی، تک دیواره، کاتالیست فلزی، مثبت  
(۳) مثبت، منفی، چند دیواره، کاتالیست فلزی، منفی  
(۴) مثبت، منفی، چند دیواره، کاتالیست غیرفلزی، منفی
- ۲۸- برای نانو ذرات نسبت به ماده حجیم گرمای ویژه در دماهای بالا ..... است و در دماهای نزدیک صفر کلوبین سهم الکترون ها در گرمای ویژه ..... می یابد.
- (۱) بیشتر، کاهش (۲) بیشتر، افزایش  
(۳) کمتر، کاهش (۴) کمتر، افزایش
- ۲۹- کدام عبارت در مورد خوشه های فلزی نادرست است؟  
(۱) تجربه نشان می دهد با کاهش اندازه خوشه فلزی انرژی بستگی (binding) کاهش می یابد.  
(۲) تجربه نشان می دهد که وقتی اندازه خوشه از حدود یک نانومتر کوچکتر می شود یک گاف انرژی ایجاد می شود.  
(۳) نقطه ذوب خوشه های فلزی کوچک (متشکل از چند ده اتم) می تواند بسیار بزرگتر از نقطه ذوب ماده حجیم باشد.  
(۴) خوشه های فلزی متشکل از تعداد فرد اتم دارای انرژی یونیزاسیون کمتری نسبت به خوشه های با تعداد زوج اتم هستند.

- ۳۰- کدام عبارت در مورد میکروسکوپ روبشی (SEM) نادرست است؟
- (۱) علاوه بر توپوگرافی ساده سطح می توان ترکیب شیمیایی سطح را به صورت محلی تحلیل کرد.
- (۲) روبش معمولاً به وسیله دو پیچه مغناطیسی انجام می شود که عمود بر یکدیگر بین دو عدسی مغناطیسی قرار می گیرند.
- (۳) دستگاه (SEM) متعارف در شرایط خلا زیاد (در حدود  $10^{-5}$  Pa) و دستگاه پیشرفته تر در شرایط خلا فوق زیاد کار می کند.
- (۴) کارکرد این دستگاه بر اساس روبش یک باریکه الکترونی با انرژی در حدود ۲ تا ۱۰ کیلو الکترون ولت روی سطح مورد نظر کانونی و آشکار سازی همزمان فوتون های گسیل شده از سطح قرار دارد.
- ۳۱- در روش پراش الکترون پر انرژی در بازتاب (RHEED) باریکه الکترونی حدود ..... با زاویه ..... بر سطح هدف فرود می آید. این روش نسبت به زمختی سطح در مقیاس اتمی ..... از روش پراش الکترون کم انرژی (LEED) که در آن معمولاً باریکه الکترونی با زاویه ..... بر سطح هدف فرود می آید، است.
- (۱) چند ده الکترون ولت، تقریباً عمودی، بسیار حساس تر، خراشی بسیار کوچک
- (۲) چند ده الکترون ولت، خراشی بسیار کوچک، بسیار حساس تر، تقریباً عمودی
- (۳) چند صد الکترون ولت، تقریباً عمودی، حساسیت بسیار کمتری، خراشی بسیار کوچک
- (۴) چند صد الکترون ولت، خراشی بسیار کوچک، حساسیت بسیار کمتری، تقریباً عمودی
- ۳۲- طیف تشدید مغناطیسی هسته (NMR) مربوط به اتم  $^{13}\text{C}$  برای مولکول فولرین  $\text{C}_{60}$  ..... دارد زیرا در این فولرین ..... و برای فولرین  $\text{C}_{70}$  ..... دارد زیرا در این فولرین .....
- (۱) ۲ قله تیز، همه اتم های کربن آن هم ارزند، ۳ قله تیز، ۲ نوع اتم غیر هم ارز وجود دارد.
- (۲) ۲ قله تیز، ۲ نوع اتم غیر هم ارز وجود دارد، فقط یک قله تیز، همه اتم های کربن آن هم ارزند.
- (۳) فقط یک قله تیز، همه اتم های کربن آن هم ارزند، ۵ قله تیز، ۵ نوع اتم غیر هم ارز وجود دارد.
- (۴) فقط یک قله تیز، همه اتم های کربن آن هم ارزند، ۲ قله تیز، ۲ نوع اتم غیر هم ارز وجود دارد.
- ۳۳- کدام عبارت در مورد آنالیز: XPS (X-ray photoelectron Spectroscopy) نادرست است؟
- (۱) در این روش تمامی عناصر با  $Z \geq 3$  را می توان آشکار سازی کرد.
- (۲) محفظه این دستگاه در شرایط خلا حدود  $10^{-3}$  torr کار می کند.
- (۳) در این روش نسبت اتم ها در ترکیب (فرمول empirical) تعیین می شود.
- (۴) با این روش ترکیب عنصری یک سطح تا عمق حدود ده نانومتر به دست می آید.




۳۴-

کدام عبارت در مورد ابزار و ماشین‌های مکانیکی در مقیاس نانو نادرست است؟  
 (۱) در روش لیتوگرافی نانوجاپ (nanoimprint) برای ایجاد نانو ساختارها نیازی به استفاده از باریکه تابشی برای تولید الگوها نیست.  
 (۲) با این روش می‌توان طرح‌هایی با قدرت تفکیک ۱۰ نانومتر را با هزینه کم و سرعت بالا تولید کرد.  
 (۳) در نانوموتورها نیروهای الکترواستاتیکی کوچک و نیروهای الکترومغناطیسی بسیار بزرگند.

۳۵-

(۴) نانوموتورها در سامانه‌های زیستی مانند موتورهای تاژک‌دار باکتری‌ها وجود دارند.  
 در شکل زیر طیف گسیلی از نانو ذرات GaN در سه اندازه مختلف این نانو ذرات داده شده است. با توجه به نمودارهای داده شده قطر ذرات در نمودارهای اول، دوم و سوم به ترتیب از راست به چپ کدام مقادیر می‌تواند باشد؟



- (۱) یک میکرون، ۱۲ نانومتر، ۴ نانومتر  
 (۲) ۴ نانومتر، یک میکرون، ۱۲ نانومتر  
 (۳) ۴ نانومتر، ۱۲ نانومتر، یک میکرون  
 (۴) ۱۲ نانومتر، ۴ نانومتر، یک میکرون

۳۶-

در نانو ذرات فلزی معمولاً با کاهش اندازه ذرات استحکام تسلیم و سختی ابتدا ..... می‌یابد و از یک اندازه بحرانی به پایین استحکام ..... می‌یابد.  
 مدول الاستیک با افزایش تخلخل در نانو ذرات ..... می‌یابد.

- (۱) کاهش، افزایش، کاهش  
 (۲) کاهش، افزایش، افزایش  
 (۳) افزایش، کاهش، کاهش  
 (۴) افزایش، افزایش، کاهش

۳۷-

کدام عبارت در مورد تولید مواد نانو ساختار به روش رسوب‌دهی الکتریکی نادرست است؟

(۱) در این روش اغلب اندازه دانه‌های ساختار تشکیل شده از صد نانومتر کمتر است.  
 (۲) در این روش امکان رسوب‌دهی تعداد زیادی از مواد خالص، آلیاژها و سرامیک وجود دارد.  
 (۳) نانوکریستال‌های نیکل تولید شده به این روش در مقایسه با نیکل پلی کریستال در برابر خوردگی‌های موضعی آسیب پذیرترند.

(۴) در این روش خصوصیات مرز دانه‌ها از قبیل نوع و مقدار آن‌ها در یک ماده کنترل می‌گردند تا خواص فیزیکی، شیمیایی و مکانیکی مطلوب به دست آید.

۳۸-

مقاومت در مقابل اکسیداسیون در درجه حرارت‌های زیاد، برای کدام نانوکامپوزیت بیشتر است؟ CNT (نانو لوله کربنی) و C-a (کربن آمورف) است.

- (۱) TiC / a-C  
 (۲) Al<sub>2</sub>O<sub>3</sub> / CNT  
 (۳) Al<sub>2</sub>O<sub>3</sub> / ۷ wt% SiC  
 (۴) Si<sub>3</sub>N<sub>4</sub> / ۵ wt% SiC

- ۳۹- برای تعیین مقاومت در مقابل اکسیداسیون از چه آنالیزی استفاده می‌شود؟  
 ۱) Auger Electron Spectroscopy (AES)  
 ۲) Thermogravimetric Analysis (TGA)  
 ۳) Differential Thermal Analysis (DTA)  
 ۴) Nanoparticle Tracking Analysis (NTA)
- ۴۰- کدام عبارت نادرست است؟  
 ۱) تار عنکبوت یک نانو کامپوزیت کاملاً آلی است. ساختار این نانو کامپوزیت از نانوبلورهای آلی درون یک شبکه آمورف آلی تشکیل شده است.  
 ۲) مینای دندان دارای ساختار نانو کامپوزیتی لایه‌ای آلی - معدنی است که در آن لایه‌های بلوری سرامیک توسط لایه‌های انعطاف پذیر آلی از هم جدا شده‌اند.  
 ۳) بسیاری از گونه‌های گیاهان در ساختار سلولی خود دارای نانو ذرات  $\text{SiO}_2$  هستند که به شکل ورقه‌ای یا میله‌ای با ابعادی از چند نانومتر تا چند ده نانومتر یافت می‌شوند.  
 ۴) مکانیزم شکل‌گیری نانو کامپوزیت آلی- معدنی طبیعی به این ترتیب است ابتدا که شبکه معدنی شکل می‌گیرد و سپس با جایگیری مواد آلی ادامه می‌یابد و در نهایت مواد آلی و معدنی با هم نانو کامپوزیت را تشکیل می‌دهند.
- ۴۱- کدام یک از آنالیزهای زیر برای کسب اطلاعات در مورد ابر ساختارها (superstructures) مناسب‌تر است؟  
 ۱) Differential Thermal Analysis (DTA)  
 ۲) X - ray photoelectron Spectroscopy (XPS)  
 ۳) Small - angle X - ray Scattering (SAXS)  
 ۴) Surface Enhanced Raman Spectroscopy (SERS)
- ۴۲- قوی‌ترین آهن ربای دائمی از نئودیم، آهن و بور ساخته شده است. تجربه نشان داده است برای نانوذرات  $\text{Nd}_7\text{Fe}_{14}\text{B}$  در محدوده کمتر از  $40^\circ$  نانومتر میدان وادارندگی ..... و مغناطش پسماند ..... می‌یابد. از ترکیب نانوذرات  $\text{Nd}_7\text{Fe}_{14}\text{B}$  سخت با فاز  $\alpha$  آهن نرم، میدان پسماند ..... می‌یابد.  
 ۱) به طور چشمگیری افزایش، افزایش، کاهش  
 ۲) به طور چشمگیری افزایش، کاهش، کاهش  
 ۳) به طور چشمگیری کاهش، افزایش، افزایش  
 ۴) به طور چشمگیری کاهش، کاهش، افزایش

- ۴۳- در طیف‌نگاری رامان از نانولوله‌های کربنی کدام ویژگی‌های اساسی مشخصه نانولوله‌های کربنی تک دیواره SWNT هستند؟
- (۱) وجود قله مربوط به مدهای تنفسی شعاعی (RBM) در محدوده عدد موجی  $100-300\text{ cm}^{-1}$  و مجموعه قله‌های G مربوط به مدهای ارتعاشی مماسی در محدوده عدد موجی  $1500-1600\text{ cm}^{-1}$
- (۲) وجود قله مربوط به مدهای تنفسی شعاعی (RBM) در محدوده عدد موجی  $100-300\text{ cm}^{-1}$  و قله D مربوط به مدهای القایی از نقص‌ها (RBM) در محدوده عدد موجی  $1200-1400\text{ cm}^{-1}$
- (۳) وجود قله D مربوط به مدهای القایی از نقص‌ها (RBM) در محدوده عدد موجی  $1200-1400\text{ cm}^{-1}$  و مجموعه قله‌های G مربوط به مدهای ارتعاشی مماسی در محدوده عدد موجی  $1500-1600\text{ cm}^{-1}$
- (۴) وجود قله D مربوط به مدهای القایی از نقص‌ها (RBM) در محدوده عدد موجی  $1200-1400\text{ cm}^{-1}$  و مجموعه قله‌های G' مربوط به مدهای ارتعاشی چند فونونی در محدوده عدد موجی  $1700\text{ cm}^{-1}$
- ۴۴- کدام عبارت در مورد سیلیکان متخلخل (Porous Silicon) نادرست است؟
- (۱) گاف نواری سیلیکان متخلخل کوچکتر از گاف نواری سیلیکان حجیم (bulk Si) است.
- (۲) معمولاً با اچینگ (etching) تک کریستال‌های سیلیکانی در محلول حاوی اسید هیدروفلوئوریک ساخته می‌شود.
- (۳) سطح داخلی سیلیکان متخلخل بسیار زیاد است. مساحت‌های از مرتبه  $1000\text{ m}^2 / \text{cm}^3$  نیز گزارش شده است.
- (۴) سیلیکان‌های متخلخل به عنوان لایه‌های پوششی ضد انعکاس در فوتودیودها و سلول‌های خورشیدی به کار گرفته شده‌اند.
- ۴۵- کدام عبارت در مورد آئروژل‌ها (Aerogels) نادرست است؟
- (۱) این مواد جذب‌کننده بسیار قوی اشعه فرسرخ هستند و بنابراین ماده جالبی برای جمع‌آوری انرژی خورشیدی هستند.
- (۲) این مواد درصد تخلخل بالایی (بیش از ۸۰ درصد) دارند و چگالی ماده حجیم آن‌ها در محدوده  $0.004-0.5\text{ g} / \text{cm}^3$  است.
- (۳) یکی از کاربردهای آئروژل‌های کربنی در ساخت خازن‌ها است و به علت مقاومت ویژه الکتریکی کوچکشان (کمتر از  $40\text{ m}\Omega \cdot \text{cm}$ ) برای ساخت الکترودها نیز مناسبند.
- (۴) آئروژل‌ها هدایت حرارتی بسیار بالایی دارند. به طور نمونه، هدایت حرارتی آئروژل سیلیس ده تا صد برابر هدایت حرارتی سیلیس حجیم است.